


Серия
«365 развивающих заданий для подготовки к школе»

365 + 5

**ЗАДАНИЙ
ПО МАТЕМАТИКЕ**

Издание 15-е



Ростов-на-Дону
«Феникс»
2024

УДК 372.3/.4
ББК 74.102
КТК 413
З-88

Зотов С. Г.

З-88 365 + 5 заданий по математике / С. Г. Зотов, М. А. Зотова, Т. С. Зотова. — Изд. 15-е. — Ростов н/Д : Феникс, 2024. — 60 с. : ил. — (365 развивающих заданий для подготовки к школе).

ISBN 978-5-222-41676-1

Книга выполнена в виде рабочей тетради и предназначена для знакомства детей дошкольного возраста с арифметическими действиями «плюс» и «минус», понятиями «множество, состав числа, прямой и обратный счёт, единицы и десятки, равенства и неравенства». Решая первые математические задачи, ребёнок также развивает любознательность, внимание, логику, память, тренирует моторику руки.

УДК 372.3/.4
ББК 74.102

ISBN 978-5-222-41676-1

© Зотов С. Г., Зотова М. А.,
Зотова Т. С., 2017
© ООО «Феникс», оформление, 2020

1 Нарисуй столько фигур, сколько показывает цифра.

--	--	--	--	--

4

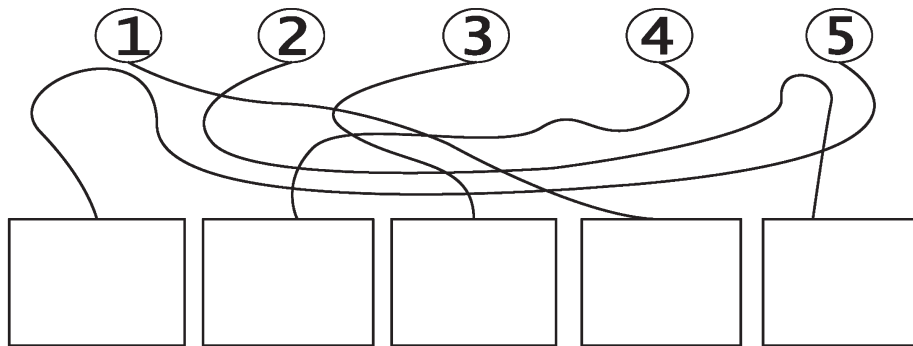
2

5

1

3


2 Найди, куда ведёт ниточка от цифры, и нарисуй в соответствующей клетке столько же точек.



3 Пропись.

1	2	3	4	5	1	2	3	4	5
---	---	---	---	---	---	---	---	---	---

4 Найди закономерность и нарисуй следующую фигуру:



5 Найди и обведи цифры:

- 1 — красный,
- 2 — жёлтый,
- 3 — зелёный,
- 4 — голубой,
- 5 — розовый.



6 Пропись.

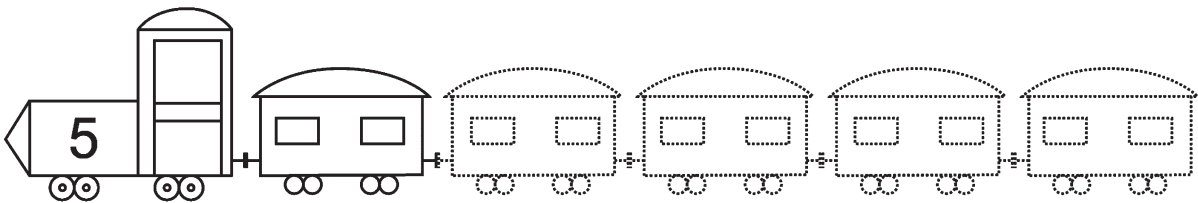


7 Реши примеры:

$1 + 1 = \square$ $2 + 1 = \square$ $4 + 1 = \square$ $3 + 1 = \square$

$2 - 1 = \square$ $3 - 1 = \square$ $5 - 1 = \square$ $4 - 1 = \square$

8 Дорисуй столько вагонов, чтобы в поезде стало 4 вагона.



$\square + \square$

9 Раскрась одним цветом пары чисел, которые вместе составляют число 4.

①

②

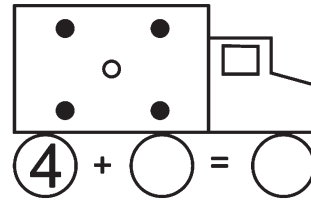
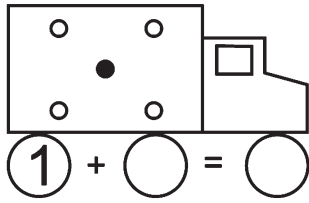
④

③

②

①

10 Составь по картинке выражение и реши его.



11 Пропись.



12 Запиши число, следующее за числом 1.

13 Какое число стоит перед числом 4?

14 За каким числом следует число 2?

15 Какому числу предшествует число 4?

16 Запиши соседа справа у числа 2.


17 Какое число больше 0 на 1?

18 Запиши соседа слева у числа 5.

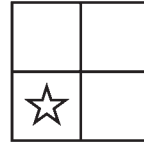
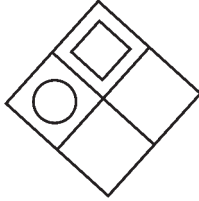
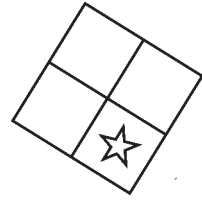
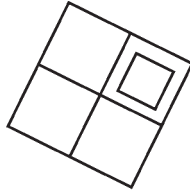
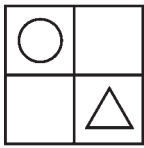
19 Какое число меньше 4 на 1?

20 Какое число стоит между числами 2 и 4?


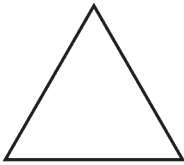
21 Запиши выражение к картинке.

 -

22 Сделай все рисунки одинаковыми.



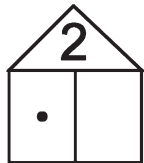
23 Раскрась фигуры синим, жёлтым и зелёным. Треугольник не жёлтый и не зелёный, круг не жёлтый и не синий.




24 Математическая пропись.



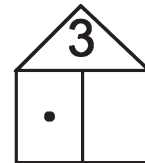
25 Заполни пустые клеточки.



$$\boxed{1} + \boxed{}$$


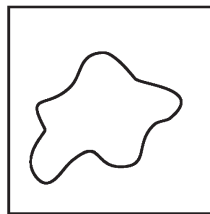
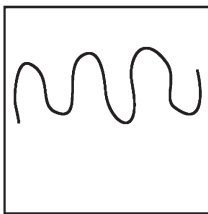


$$\boxed{2} + \boxed{}$$

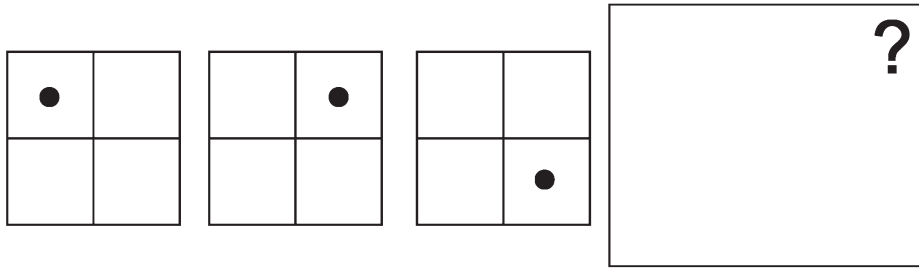


$$\boxed{1} + \boxed{}$$

26 Найди и зачеркни лишнюю фигуру.



27 Найди закономерность и нарисуй следующую фигуру.




28 Реши и запиши:

$1 + 2 = \square$

$2 + 2 = \square$

$3 + 2 = \square$

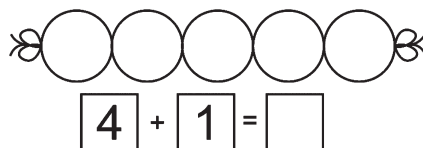
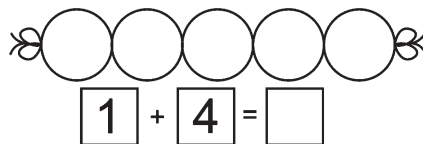
29 Посмотри, какие фигуры нарисованы в первом и во втором ряду. Подумай, какой фигуры не хватает в третьем ряду.



30 Пропись.



31 Раскрась бусинки так, чтобы выражения были верными.



ЕАС



Учебное издание

ЗОТОВ Сергей Геннадьевич,
ЗОТОВА Марина Александровна,
ЗОТОВА Татьяна Сергеевна

365 + 5 ЗАДАНИЙ ПО МАТЕМАТИКЕ

Ответственный редактор: *Оксана Морозова*
Технический редактор *Галина Логвинова*
Компьютерная верстка: *Анна Патулова*

Формат 84x108/16. Бумага офсетная.

Тираж 10 000 экз. Заказ № .

Издатель и Изготовитель: ООО «Феникс»
Юр. и факт. адрес: 344011, Россия, Ростовская обл.,
г. Ростов-на-Дону, ул. Варфоломеева, 150.
Тел./факс: (863) 261-89-50, 261-89-59.

Изготовлено в России. Дата изготовления: 12.2023.
Срок годности не ограничен.

Отпечатано в ООО «БПК-Групп»
Юр. адрес: 142400, Россия, Московская обл., Ногинский район,
г. Ногинск, ул. Индустриальная, д. 40Б, каб. 106.
Факт. адрес: 142400, Россия, Московская обл., Ногинский район,
г. Ногинск, ул. Индустриальная, д. 40Б.